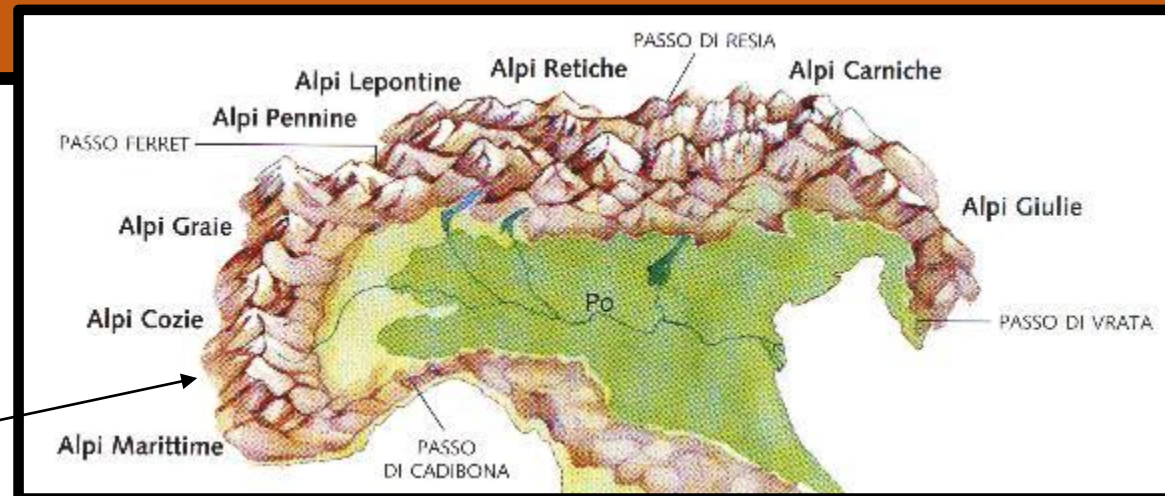


Un viaggio tra i paesaggi italiani


Le montagne italiane

- L'Italia ha due **CATENE MONTUOSE** (mountain ranges):
- 1. **Le Alpi**, che vanno da OVEST a EST e dividono l'Italia dal resto dell'Europa
- 2. **Gli Appennini** che vanno da NORD a SUD



Monte Bianco

Le Alpi



Dolomiti

Le montagne



FAUNA



FLORA



Due sono le catene montuose italiane:

Le si sviluppano da a
nell'Italia settentrionale.


Le Alpi si suddividono in tre settori:
.....

La vetta più alta è il che si trova in
..... Alle Alpi appartengono anche il monte
....., il monte e il
..... dove è posto anche l'omonimo Parco Nazionale. L'animale
tipico del parco è lo

In Piemonte troviamo il da cui nasce il fiume più lungo d'Italia: il
.....

In Trentino possiamo ammirare le, le Tre, la
Vetta e la

GLI APPENNINI



Gli invece si sviluppano da
..... Sono montagne più basse delle Alpi, dove il
.....in, è il massiccio montuoso più
alto di questa catena. In questa regione si colloca il Parco Nazionale
d'Abruzzo che protegge animali quasi scomparsi come il
e l'.....

Tre sono i settori in cui si suddividono gli Appennini:
.....

A questa catena appartengono due famosi vulcani: il
e l'Etna.

I fiumi e i laghi

Il è il fiume più lungo d'Italia, nasce dal in

Attraversa la città di

Sfocia a nel mar In questo punto si può visitare il Parco del delta.


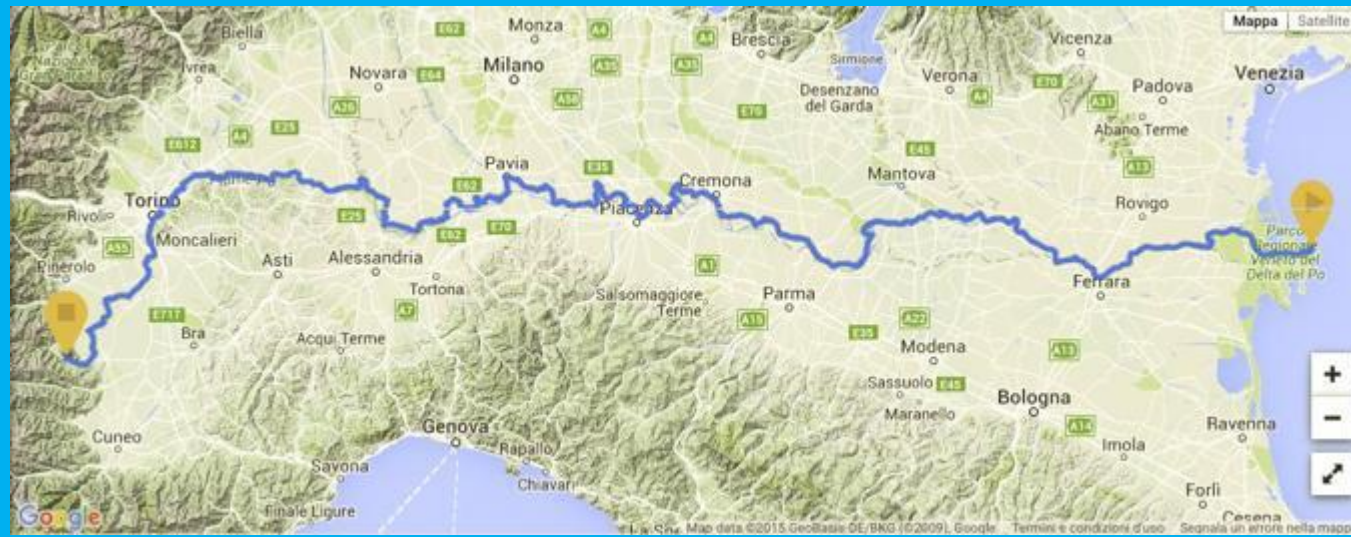
Il Po ha molti: il che esce dal lago Maggiore, il che nasce dal monte Rosa, la che scorre in Valle d'Aosta, l' che esce dal lago di Como.

I fiumi che entrano in un lago sono; quelli che escono sono

Il fiume Adige scorre in, dove si trova anche il lago più grande d'Italia: il lago di

Nella nostra regione c'è il lago

Il lago è



I MARI



L'Italia è una, bagnata da tre lati dal mare: a est il mar e il mar, a ovest il mar e il mar e a sud il mar

Perché il mare è salato?

Nei mari sfociano i fiumi che compiono un lungo percorso durante il quale raccolgono i sali minerali, contenuti nei frammenti di terra e roccia, che si sciolgono nell'acqua. Col passare del tempo nei mari si è accumulato il sale, ecco perché il mare è salato.

Come si formano le spiagge?

Il mare erode le coste staccando e sminuzzando le rocce con il movimento delle onde. Le stesse onde poi depositano i granelli di sabbia a riva.

Le coste basse e sabbiose si trovano in, dove la pianura arriva fino al mare; in Liguria invece, dove le montagne sono vicine al mare, la costa è

Le onde sono dei movimenti del mare provocati dal

Le correnti sono dei «fiumi» di acqua calda o fredda che scorrono in profondità.

La più famosa è la

Vicino la mare crescono le palme grazie al clima

Venezia è una città di mare che si affaccia sul golfo di e posta su alcuni isolotti della laguna.

La Sicilia e la Sardegna sono due, come anche l'Elba.

L'..... è un insieme di isole come le Filippine.

Una delle attività lavorative più antiche svolte dall'uomo al mare è la

Nei porti attraccano i pescherecci, che scaricano a terra il pesce fresco pronto per la vendita, navi da crociera, traghetti, barche a vela e anche yacht. Alle spalle dei porti sorgono iche riparano e costruiscono imbarcazioni.

Oggi l'attività più diffusa è il, per cui nelle varie località marittime italiane sono sorti alberghi, bar e ristoranti.

Le attività umane



La collina



Le colline sono dei dalla cima


Le coltivazioni più diffuse in collina sono: gli e le

In collina si allevano e il cui latte serve a produrre formaggi come il

Sulla cima delle colline si possono ancora trovare antichi

Una regione delle nostre vacanze prevalentemente collinare è la
dove il paesaggio è caratterizzato dai alti e snelli alberi.

Cerca sull'atlante e completa il grafico a torta o aerogramma del territorio della regione



Montagna:

Collina:

Pianura:

In pianura



La più vasta pianura italiana è la


Essa è attraversata dal fiume

Nella pianura Padana si allevano bovini che forniscono il per fare, come il grana padano e il parmigiano; i suini invece permettono di produrre il noto di Parma.

Si coltivano in abbondanza i: riso, grano e granturco.

L'Emilia Romagna è una regione prevalentemente

Cerca sull'atlante e completa il grafico a torta o aerogramma del territorio della regione



Montagna:

Collina:

Pianura:


L'ITALIA FISICA

L'Italia è la nostra nazione la cui capitale èin
.....

L'Italia fa parte del continente

Ma com'è il suo territorio?

Cerca sull'atlante e completa il grafico a torta o aerogramma.



Montagna:

Collina:

Pianura:

